

*Муниципальное бюджетное дошкольное образовательное учреждение
детский сад «Малинка» с.Кытманово*

Итоговое НОД

«Цветик – семицветик»

22

Какой слог
пропущен в слове?

СО.....КА



1

ПА

2

ЛИ

3

БА

4


РО

*Выбери картинку,
название которой
начинается на
гласный звук.*


1



2



3




4



СКОЛЬКО СЛОГОВ
В ЭТОМ СЛОВЕ?

САМОЛЁТ



1

1

2

2

3

3

4

4

На какой слог падает ударение в этом слове?

ЧАСЫ



1

1

2

2

3

3


4

4


Какая цифра пропущена? Выбери соответствующую картинку.




1




2



3



4



1

8

Выбери картинку,
которая соответствует этой цифре.


1



2



3



4



Выбери цифру,
которая подходит к этому неравенству.

$$5 > \dots$$

1

7

2

5

3

3

4

9


Выбери картинку,
которая подходит к этому примеру.

$$4 + 3 = 7$$

1




2



3



4




22

*Какой кубик можно
склеить из
нарисованной
заготовки?*



1



2



3



4



20

**Реши задачу. Выбери
правильный ответ.**

**По двору ходили гуси.
У всех гусей Саша насчитал
6 лап. Сколько гусей гуляло
во дворе?**

1



2



3



4



8

Подумай и закончи предложение.

Если брат старше сестры, то сестра...

1

**умнее
брата**

2

**старше
брата**

3

**младше
брата**

4

**добрее
брата**